

Ciencias naturales: “mírate por dentro”

Nombre: _____

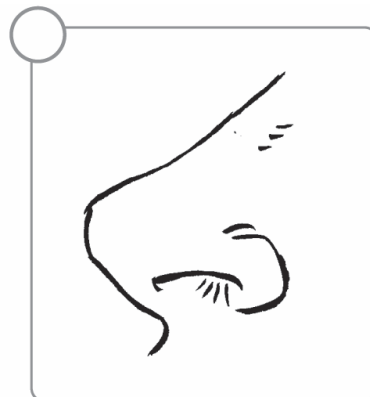
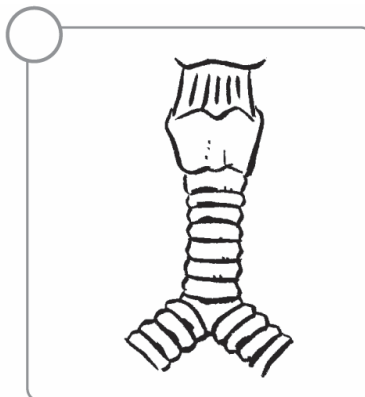
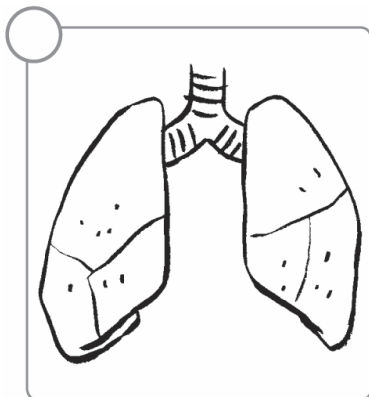
Nos alimentamos y respiramos

1. Dibuja y nombra un órgano de cada aparato:

Aparato digestivo

Aparato respiratorio

2. ¿En qué orden intervienen estos órganos cuando tomamos aire para respirar? Numera del 1 al 3.



3. Relaciona con flechas los órganos del aparato excretor con su función.

Los riñones ●

La vejiga ●

La piel ●

● Es el lugar donde se almacena la orina antes de ser expulsada.

● Es la encargada de expulsar los desechos en forma de sudor.

● Retienen los desechos de la sangre y forman la orina.

4. Relaciona los órganos con los sentidos.



ojos

oído

nariz

tacto

oídos

vista

boca

olfato

piel

gusto

5. Colorea quién interviene en la función de relación.

El pelo

El cerebro
y los nervios

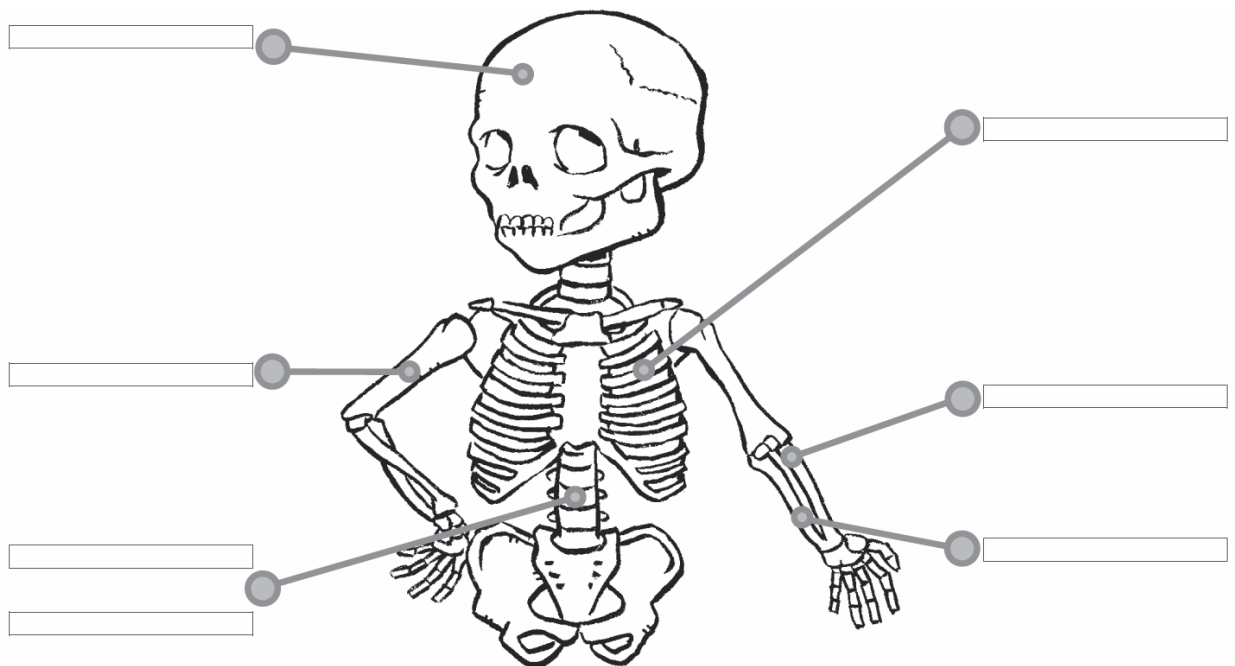
Los sentidos

El aparato
locomotor

Las uñas

El estómago

6. Escribe el nombre de los huesos señalados en el dibujo:



7. Completa la oración con las siguientes palabras:

diferente

reproductor

mujeres

El aparato _____ es el único que es _____ en los hombres
y en las _____.